



الهدف العام : الموقع والخصائص العامة .

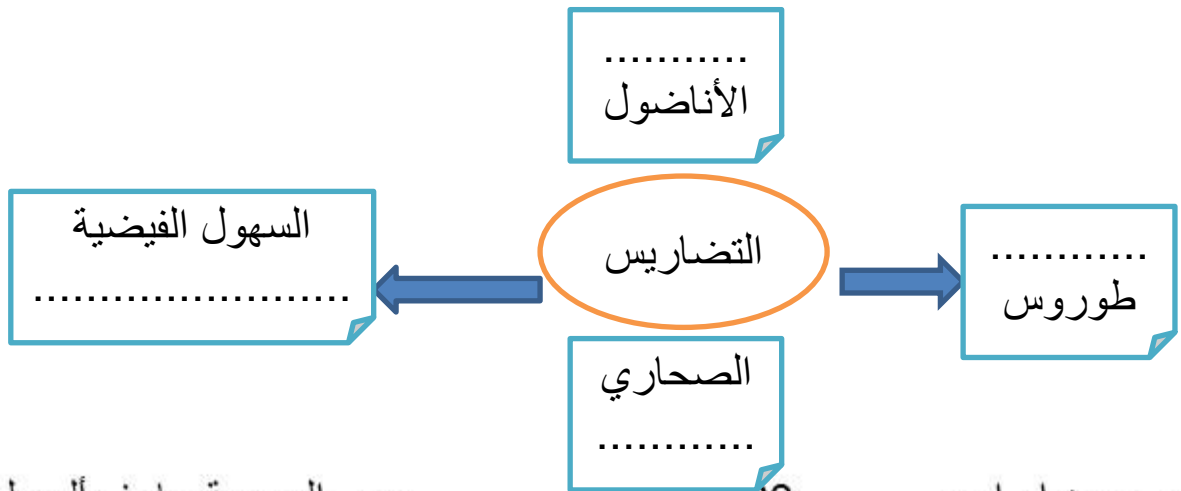
النشاط الأول : ضع الكلمة المناسبة في المكان المناسب من بين الكلمات الموجودة في صندوق المعرفة ؟
(44.5 مليون كم² - الأرض المشمسة - 26,180 درجة - 12,83 درجة)

- 1- تقع قارة آسيا بين دائرتي عرض جنوباً و..... شمالاً .
- 2- آسيا تسمية قديمة معناها
- 3- تقع قارة آسيا بين خطي طول و..... شرق غرينتش
- 4- تبلغ مساحة قارة آسيا

النشاط الثاني : من المسطحات المائية التي تقع في القارة الآسيوية ؟

..... و..... و..... و.....

النشاط الثالث : استكمل الخريطة الذهنية التالية من خلال وضع الكلمات في المكان المناسب ؟ (المرتفعات - الهضاب - دجلة والفرات - الربع الخالي)





الهدف العام : الموقع والخصائص العامة .

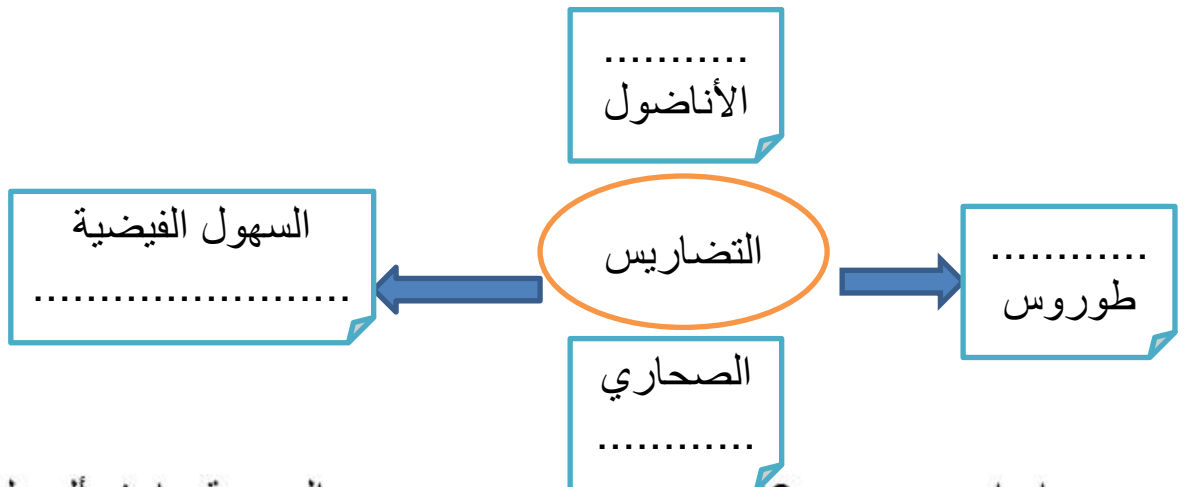
النشاط الأول : ضع الكلمة المناسبة في المكان المناسب من خلال دراستك للموضوع ؟

- 1- تقع قارة آسيا بين دائرتي عرض جنوباً و..... شمالاً .
- 2- آسيا تسمية قديمة معناها
- 3- تقع قارة آسيا بين خطي طول و..... شرق غرينتش
- 4- تبلغ مساحة قارة آسيا

النشاط الثاني : من المسطحات المائية التي تقع في القارة الآسيوية ؟

..... و..... و..... و.....

النشاط الثالث : استكمل الخريطة الذهنية التالية من خلال وضع الكلمات في المكان المناسب ؟





الهدف العام : الموقع والخصائص العامة .

النشاط الأول : من خلال الصور التالية استنتج العوامل المؤثرة في المناخ والنبات الطبيعي ؟



النشاط الثاني : من خلال العودة إلى الكتاب صفحة 17 استخرج خصائص الإقليم الصحراوي الحار ؟

.....

.....

.....

.....

.....



الهدف العام : الموقع والخصائص العامة .

النشاط الأول : من خلال الصور التالية استنتج العوامل المؤثرة في المناخ والنبات الطبيعي ؟ (الموقع - التضاريس - توزيع اليابس والماء)



النشاط الثاني : صل بين الإقليم والخاصية ؟

الامطار في فصل الشتاء

الإقليم الاستوائي

حرارة مرتفعة وامطار طوال العام

الإقليم الموسمي

المطار في فصل الصيف

الإقليم البحر المتوسط



الهدف العام : الموقع والخصائص العامة .

النشاط الأول : ما هي العوامل المؤثرة في المناخ ؟

النشاط الثاني : فكر خارج الصندوق ؟ تعتبر القارة الآسيوية من أفضل قارات العالم من حيث تنوع الظروف المناخية ؟

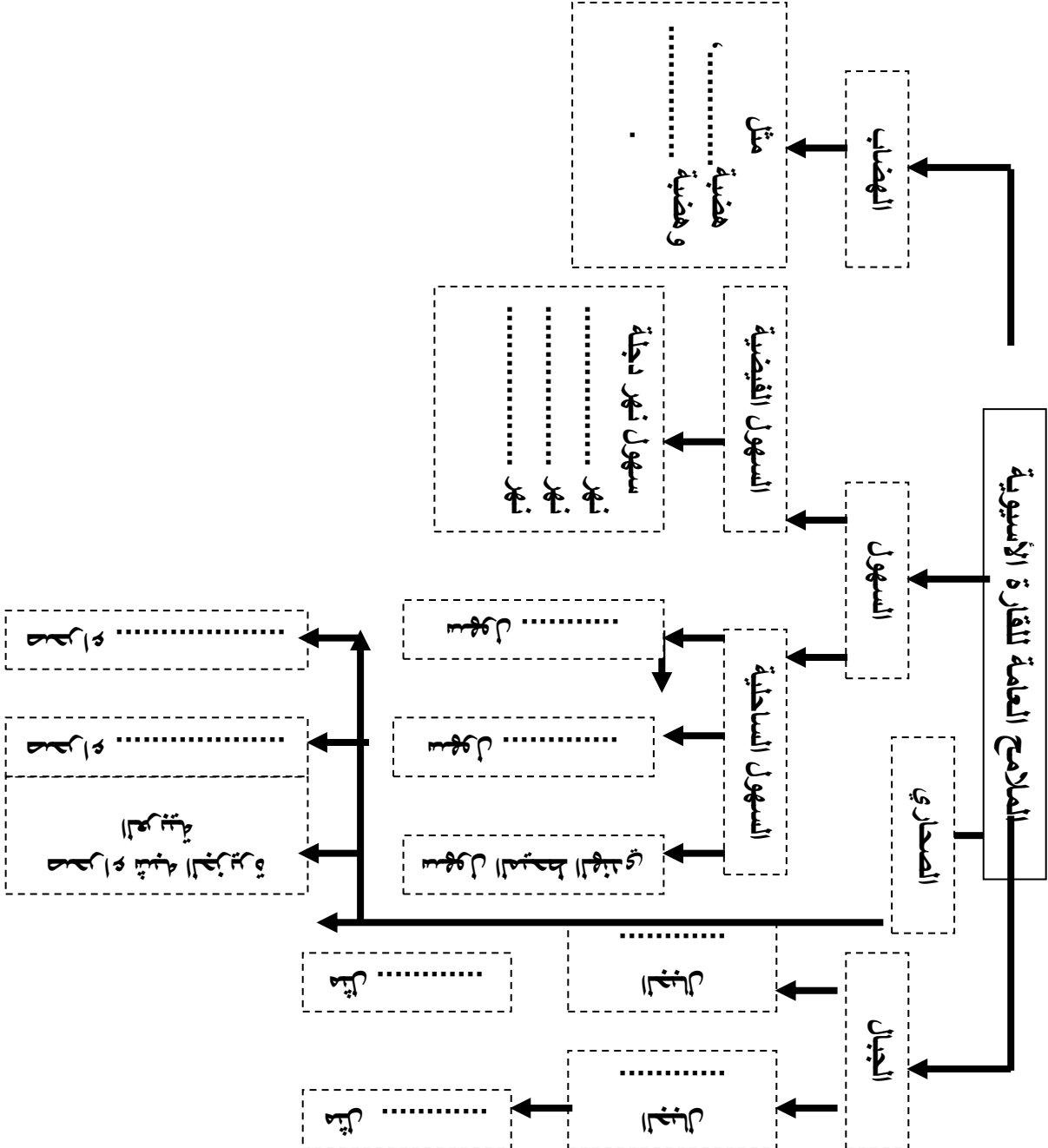
.....
.....

النشاط الثالث : قارن بين الإقليم التالية ؟ الموسمي والصحراوي والبحر المتوسط من حيث معطيات الجدول

أوجه المقارنة	الموسمي	الصحراوي	البحر المتوسط
الحرارة			
الأمطار			
النبات			

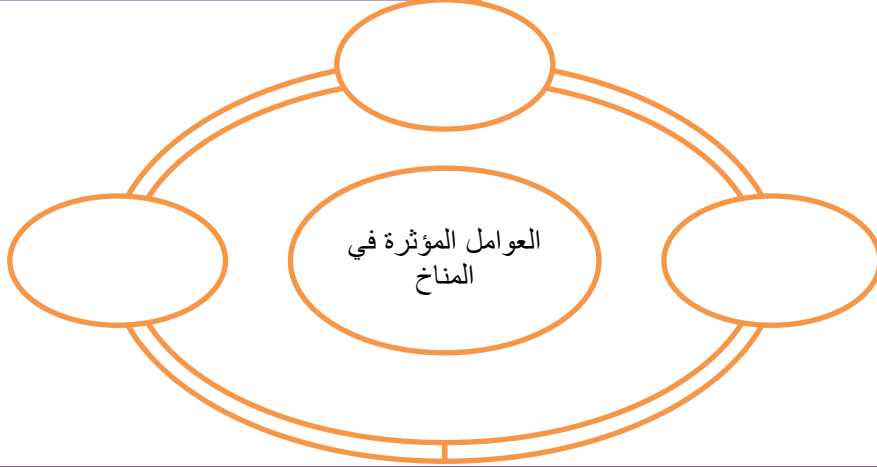
النشاط الأول : أكمل الخريطة الذهنية التالية ؟

الهدف العام : الموقع والخصائص العامة .



تقييم

الهدف العام : الموقع والخصائص العامة . النشاط الأول : اكمل المخطط التالي ؟



النشاط الثاني : بالعودة إلى الكتاب صفحة 17 حدد انتشار اقليم البحر المتوسط والإقليم الاستوائي والإقليم الصحراوي بالتلوين





الهدف العام : اسيا بشريا .

النشاط الأول : نشاط مهاري (مثل الجدول التالي تمثيل بياني بالأعمدة ؟

العام	عدد السكان مليار نسمة
2016	4.4
2005	3.9
1995	3.4
1985	2.8
1975	2.4

4.5					
4					
3.5					
3					
2.5					
2					
	1975	1985	1995	2005	2016

النشاط الثاني : صمم خريطة ذهنية تبرز العوامل الطبيعية والبشرية
المؤثرة في توزيع السكان ؟

عمر حسن ابراہیم



الهدف العام : اسيا بشريا .

النشاط الأول : سمي الأنشطة الاقتصادية المنتشرة في القارة الآسيوية ؟

الزراعةو.....و.....

.....والتجارة و.....

النشاط الثاني : صنف السلع التالية إلى صادرات وواردات في القارة ؟
الملابس – النفط الخام- التوابل – القطن- الغاز- الصوف – السيارات

				الملابس	الصادرات
		القطن			الواردات

النشاط الثالث : صل بين العوامل المؤثرة والنوع الذي تنتمي اليه ؟

البشرية

الطبيعية

الموقع	الحرفة	المناخ	التربة	الحروب	المواصلات	التضاريس
--------	--------	--------	--------	--------	-----------	----------



الهدف العام : اسيا تاريخياً

النشاط الأول : علل ما يلي ؟

- قيام الدول الاستعمارية بالسيطرة على القارة الآسيوية كدافع اقتصادي

.....
.....

- من أجل تخفيف البطالة في أوروبا قمنا بالسيطرة على دول القارة ؟

.....
.....

النشاط الثاني : استخلص من النص الموجود في الكتاب صفحة 23 أبرز
تطورات القضية الفلسطينية ؟

.....

.....

النشاط الثالث : دلل على الدعم الاماراتي للقضية الفلسطينية ؟

.....

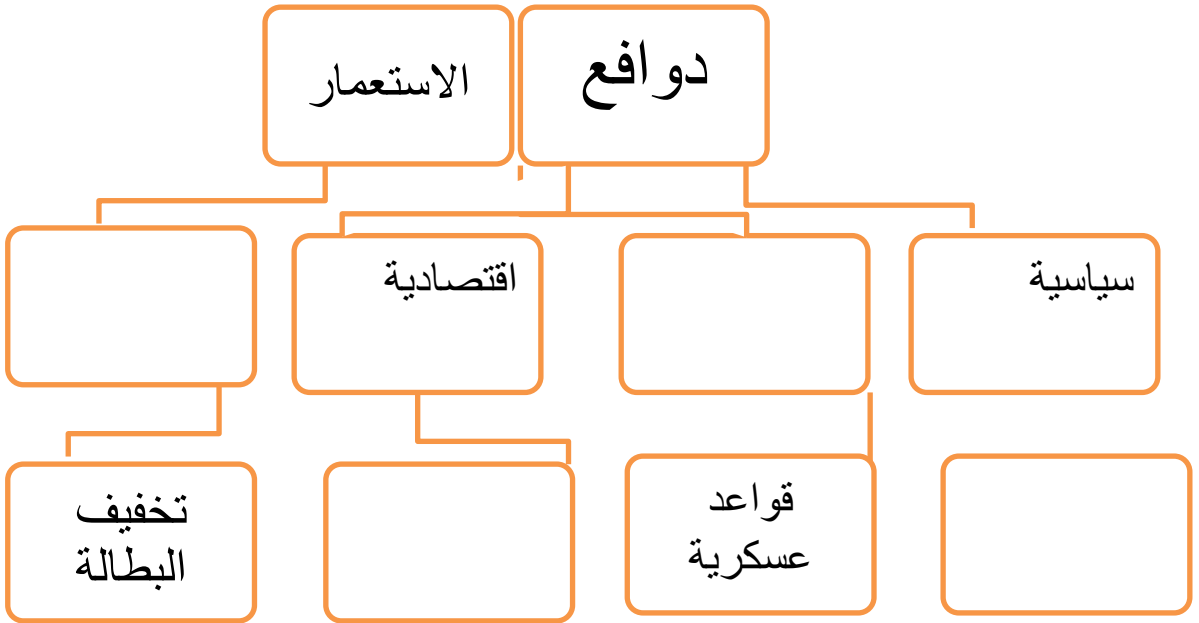
.....

.....



الهدف العام : اسيا تاريخياً

النشاط الأول : استكمل الخريطة التالية التي تتناول دوافع الاستعمار ؟



النشاط الثالث : دلل على الدعم الاماراتي للقضية الفلسطينية ؟

.....

.....

.....



الهدف العام : اسيا تاريخياً

النشاط الأول : ضع دائرة على رمز الإجابة الصحيحة ؟

دولة عربية تم احتلالها من قبل قوات الاحتلال الإسرائيلية

A	الصين	B	فلسطين	C	بريطانيا	D	فرنسا
---	-------	---	--------	---	----------	---	-------

دولة اوروبية فرضت الانتداب على فلسطين

A	الصين	B	فلسطين	C	بريطانيا	D	فرنسا
---	-------	---	--------	---	----------	---	-------

كان الدافع إقامة امبراطوريات وفرض الهيمنة إذاً الدافع

A	اقتصادي	B	سياسي	C	اجتماعي	D	عسكري
---	---------	---	-------	---	---------	---	-------

دول الخليج ما عدا السعودية كانت تحت السيطرة

A	الاسباني	B	البريطانية	C	الروسية	D	فرنسا
---	----------	---	------------	---	---------	---	-------

النشاط الثالث : أذكر بعض ما قدمته الإمارات للشعب والقضية الفلسطينية ؟

.....

.....

.....



الهدف العام : الهند الملامح الطبيعية

النشاط الأول : ضع دائرة على رمز الإجابة الصحيحة ؟

تقع جمهورية الهند في آسيا

A	جنوب قارة	B	شمال قارة	C	شرق قارة	D	غرب
---	-----------	---	-----------	---	----------	---	-----

سهل اتصال الهند مع القارة الأفريقية اشرافها على المحيط

A	الأطلسي	B	الهندي	C	الأطلسي	D	الهادي
---	---------	---	--------	---	---------	---	--------

الهند هي عبارة عن

A	عالم	B	شبه قارة	C	وطن	D	قارة
---	------	---	----------	---	-----	---	------

تقع الهند بين دائرتي عرض

A	9-37	B	8-37	C	68-97	D	8-97
---	------	---	------	---	-------	---	------

تقع الهند بين خطي طول

A	68-97	B	8-37	C	58-95	D	8-97
---	-------	---	------	---	-------	---	------

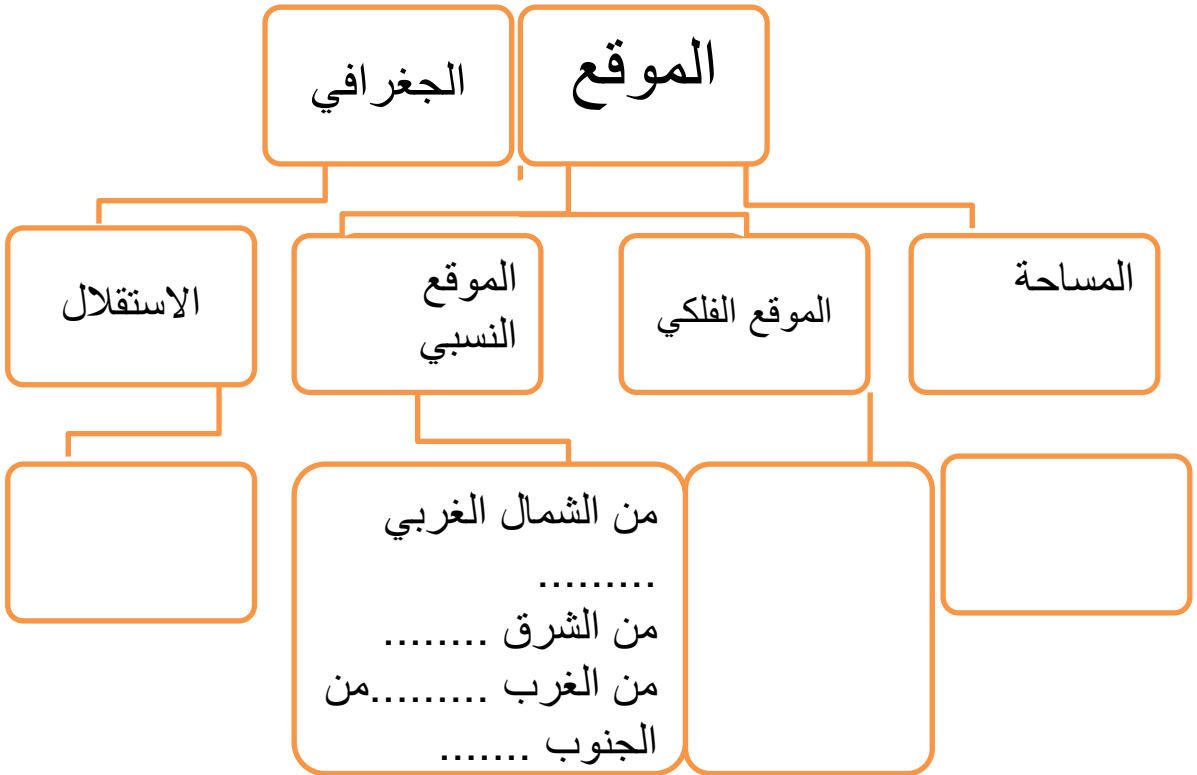
النشاط الثاني : استكمل الفراغات في الجمل التالية ؟

تبلغ مساحة الهند كم² تمتد من بحر
غرباً إلى شرقاً تحدها من الشمال الغربي
و..... ونيبال من الشمال و..... من الشرق
و..... من الغرب



الهدف العام : الهند الملامح الطبيعية

النشاط الأول : استكمل الخريطة التالية التي تتناول الملامح الطبيعية ؟



النشاط الثالث : لخص الخريطة الطبيعية للهند (التضاريس) ؟

.....
.....
.....



الهدف العام : الهند والملاح الطبيعية

النشاط الأول : علل ما يلي ؟

- أهمية الهند استراتيجياً

.....
.....

- صف الموقع الفلكي للهند ؟

.....
.....

النشاط الثاني : استخلص أهم المظاهر الطبيعية (التضاريس) لشبه القارة الهندية ؟

.....
.....

النشاط الثالث : صف الموقع النسبي لشبه القارة الهندية (الدول والمسطحات) ؟

.....
.....
.....



الهدف العام : الهند الملامح البشرية

النشاط الأول : صف مناخ شبه القارة الهندية ؟

.....

.....

.....

النشاط الثاني : للانفجار السكاني في شبه القارة الهندية أسباب ونتائج »
فسر هذه الجملة » ؟

.....

.....

.....

.....

النشاط الثالث : سمي الأنشطة الاقتصادية في شبه القارة الهندية مع ضرب
مثال ؟

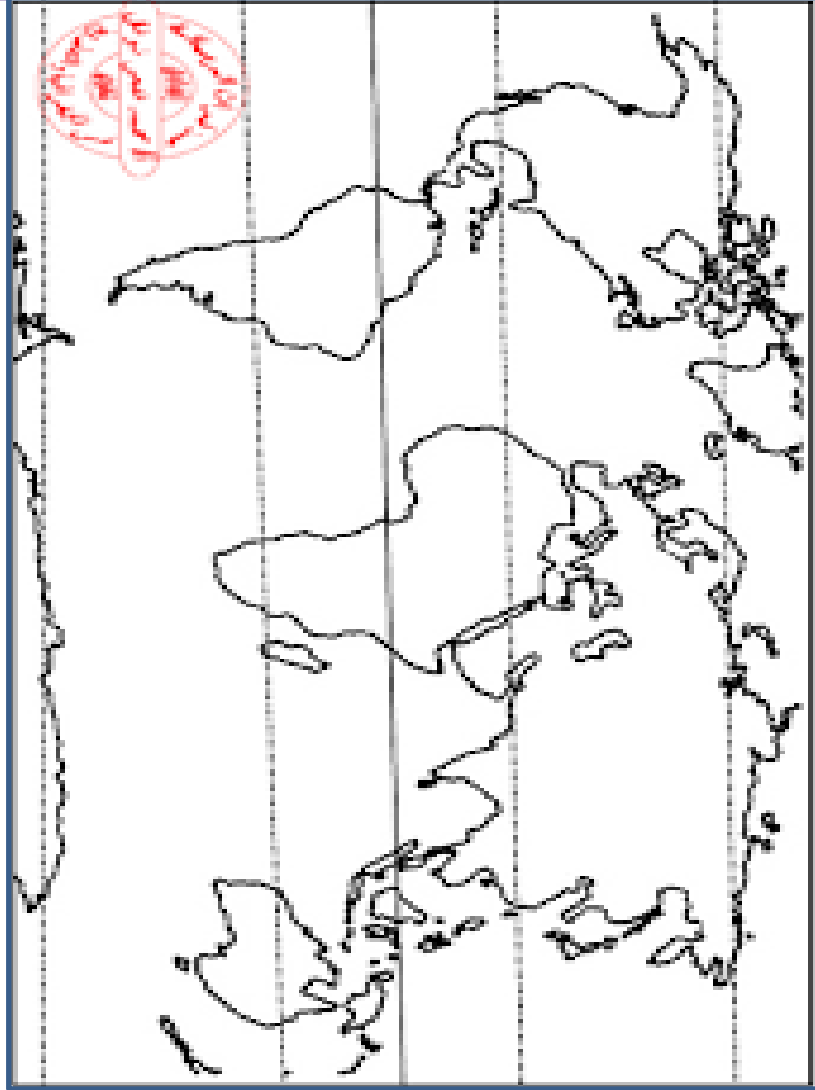
.....

.....

.....

الهدف العام : الهند الملامح البشرية

النشاط الأول : حدد على خريطة العالم موقع شبه القارة الهندية من خلال
تلوين الهند باللون الأخضر والمحيط الذي تشرف عليه بالأزرق وحدودها
الشمالية الغربية بالأصفر وجمال هماليا بالبنّي ؟





الهدف العام : العلاقات
مع الهند

ما هي أهم
الصناعات الهندية ؟

.....
.....
.....
.....
.....

دلل على عمق
العلاقة بين قادة
البلدين ؟

.....
.....
.....
.....
.....



الإمارات
تستورد من
الهند



الهدف العام : العلاقات
مع الهند

ما هي أهم وارادات
الهند ؟

.....
.....
.....
.....
.....

دلل على عمق
العلاقة بين قادة
البلدين ؟

.....
.....
.....
.....
.....



الإمارات
تستورد من
الهند



الهدف العام : العلاقات
مع الهند

ما هي أهم
مجالات التعاون
بين الامارات
والهند

.....
.....
.....
.....
.....

